

4.3 Rovnice přímky

① Napište rovnici přímky \vec{s} procházející body:

a) $A[1;2], B[-1;4]$

$$\vec{s} = B - A = (-1 - 1; 4 - 2) = (-2; 2)$$

a jakýkoliv násobek tohoto vektoru, kde $t \neq 0$.

$$\vec{s} = (-2t; 2t); t \neq 0$$

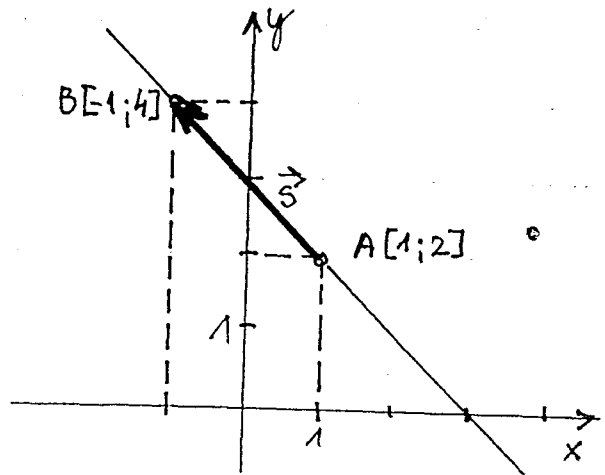
b) $C[3;-5], D[-1;7]$

$$\vec{s} = D - C = (-1 - 3; 7 + 5) = -4; 12$$

$$\vec{s} = (-4t; 12t); t \neq 0$$

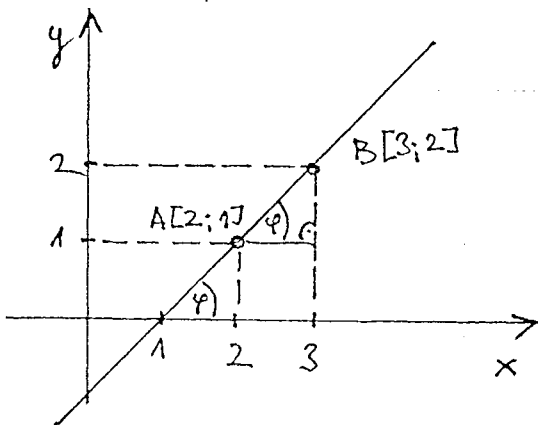
c) $E[-5;2], F[0;-4], \vec{s} = F - E = (0 + 5; -4 - 2) = (5; -6)$

$$\vec{s} = (5t; -6t); t \neq 0$$



② Vypočítejte směrnici a směrový úhel přímky procházející body:

a) $A[2;1], B[3;2]$



Směrnice přímky se rovná $\text{tg } \varphi$, kde φ je velikost směrového úhlu, což je odstupka přímky od kladné polosuhy x (Ox)

$$k = \frac{b_2 - a_2}{b_1 - a_1} = \frac{2 - 1}{3 - 2} = \frac{1}{1} = 1 \quad \boxed{k=1}$$

$$\text{tg } \varphi = 1 \Rightarrow \boxed{\varphi = 45^\circ}$$

b) $A[-2;-1], B[3;-6]$

$$k = \frac{-6 + 1}{3 + 2} = \frac{-5}{5} = -1 \quad \boxed{k=-1}$$

$$\text{tg } \varphi = -1 \Rightarrow \boxed{\varphi = -45^\circ}$$

na kalkulaci $\boxed{\text{Shift}} \boxed{\text{tg}} \boxed{(} \boxed{-} \boxed{1} \boxed{)} \boxed{=}$

c) $A[3;-2], B[2;1]$

$k = \frac{1+2}{2-3} = \frac{3}{-1} = -3$ $\lg \varphi = -3 \Rightarrow \varphi = -71^\circ 33' 54''$ $\varphi = -71^\circ 34'$

$k = -3$ (ne kalkulace) \downarrow *napis*

Shift tg (- 3) = 0.999

d) $A[3;3], B[2;-4]$

$k = \frac{-4-3}{2-3} = \frac{-7}{-1} = 7$ $k=7$ $\varphi = 81^\circ 52'$

③ Můžete pomocí souřadnic bodu B a k , aby přímka procházela bodem $A[-1;4]$, $B[x;2]$ máte směřování $k = -\frac{1}{4}$.

$k = \frac{b_2 - a_2}{b_1 - a_1}$
 $-\frac{1}{4} = \frac{2-4}{x+1}$
 $-\frac{1}{4} = -\frac{2}{x+1} \quad | \cdot (-1)$
 $x+1 = 8$
 $x = 7$

Parametrické rovnice přímky

④ Napište parametrické rovnice přímky určené bodem A a směrovým vektorem \vec{s} , je-li:

a) $A[3;-2], \vec{s} = (1; -3)$
 $\downarrow \quad \downarrow \quad \downarrow \quad \downarrow$
 $a_1 \quad a_2 \quad s_1 \quad s_2$

$x = a_1 + t s_1$
 $y = a_2 + t s_2$
 VZOREC

$x = 3 + t$
 $y = -2 - 3t$

b) $A[-4;0], \vec{s} = (5; 7)$

$x = -4 + 5t$
 $y = 7t$

⑤ Napište parametrické rovnice přímky, která je určena body:

a) $A[3;-1], B[5;-7]$

$\vec{s} = B - A = (5-3; -7+1) = (2; -6)$

$x = 3 + 2t$
 $y = -1 - 6t$

b) $A[4;2], B[-4;3] \quad \vec{s} = B - A = (-4-4; 3-2) = (-8; 1)$

$x = 4 - 8t$
 $y = 2 + t$

c) $A[-4; 3], B[0; 5]$

$\vec{s} = B - A = (4; 2)$

$$\begin{cases} x = -4 + 4t \\ y = 3 + 2t \end{cases}$$

d) $A[1; 0], B[-3; -4]$

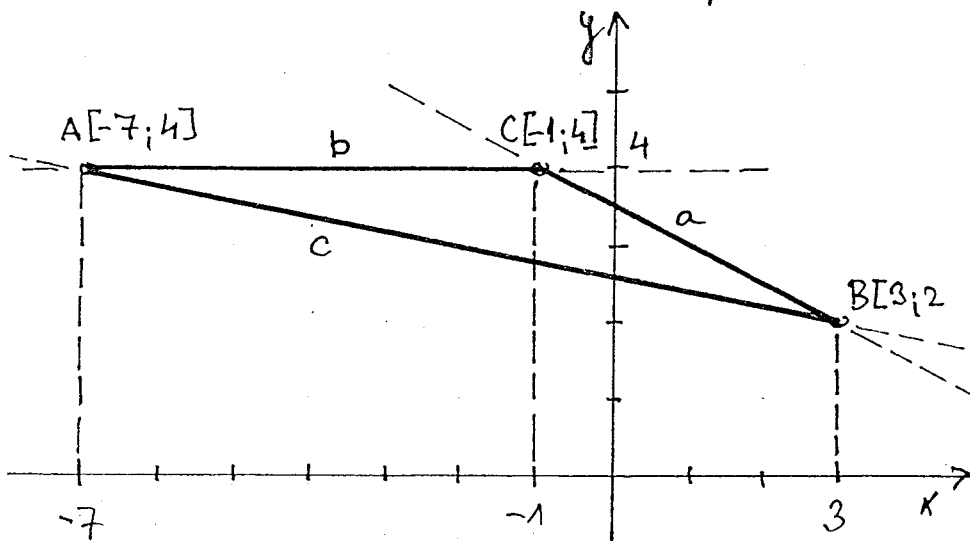
$\vec{s} = B - A = (-4; -4)$

$$\begin{cases} x = 1 - 4t \\ y = -4t \end{cases}$$

6) Napište parametrické rovnice přímek, ne kterých jsou strany trojúhelníku s vrcholy A, B, C, ž-li:

a) $A[-7; 4], B[3; 2], C[-1; 4]$

Opis: výsledkům ve směru



evoluje
vlastnější
osoučet:

řídíku a proti
vrcholu A atd.

Žuk \equiv , který
je směru a výsled-
ků, ž zastaral'
a má se k do-
měnu směru
nepoužitel.

a: $\vec{s} = C - B = (-4; 2)$ b: $\vec{s} = C - A = (6; 0)$

$$\begin{cases} x = 3 - 4t \\ y = 2 + 2t \end{cases}$$

$$\begin{cases} x = -7 + 6t \\ y = 4 \end{cases}$$

c: $\vec{s} = B - A = (10; -2)$

$$\begin{cases} x = -7 + 10t \\ y = 4 - 2t \end{cases}$$

Výsledky mohou mít i jinou

podobu, na je závislá na volbě směrového vektoru dané přímky. Např. přímka a má směrový vektor nejen

$\vec{s} = C - B = (-4; 2)$, ale i $\vec{s} = B - C = (4; -2)$, jak ovšem

$$\begin{cases} x = -1 + 4t \\ y = 4 - 2t \end{cases} \dots \text{jiný početeců bod}$$

b) $A[2; -5], B[-1; -2], C[-3; 2]$

a: $\vec{s} = C - B = (-2; 4)$

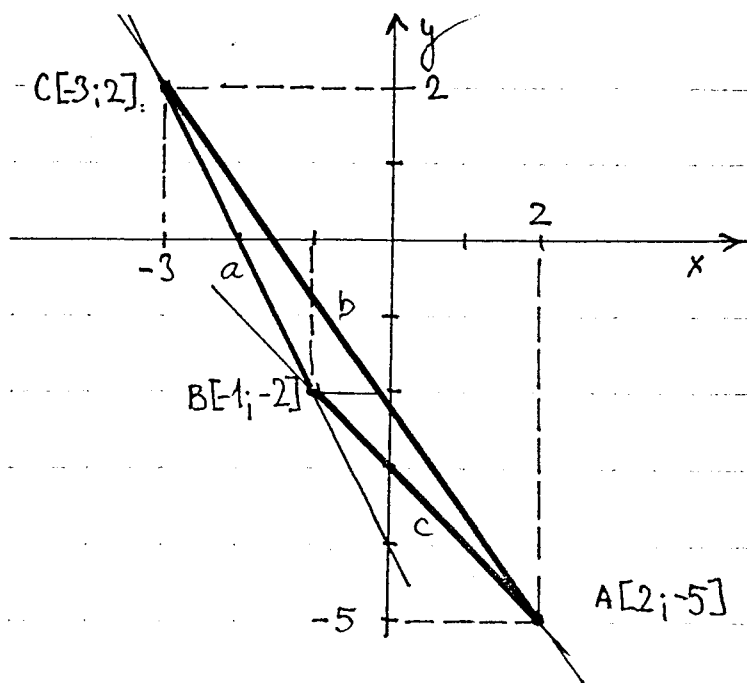
$$\begin{cases} x = -1 - 2t \\ y = -2 + 4t \end{cases}$$

b: $\vec{s} = C - A = (-5; 7)$

$$\begin{cases} x = 2 - 5t \\ y = -5 + 7t \end{cases}$$

c: $\vec{s} = B - A = (-3; 3)$

$$\begin{cases} x = 2 - 3t \\ y = -5 + 3t \end{cases}$$



⑦ a) Uloži'helutku ABC určete parametrickou rovnice přímice, je-li:

a) $A[1; 2], B[3; 6], C[5; 4]$

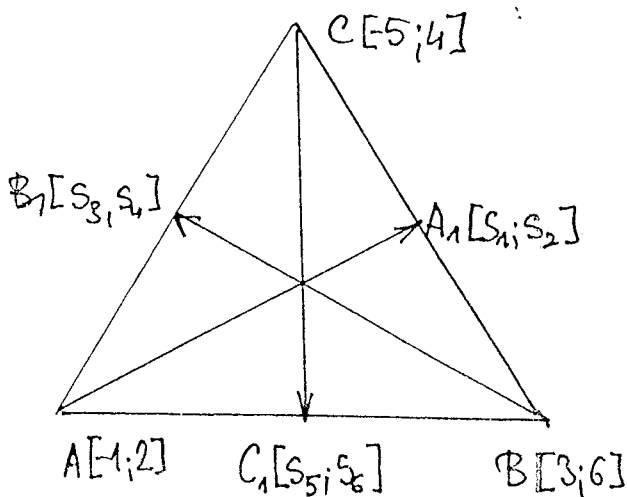
Důležitá poznámka:

Dávou pitvasi není

řada pokračovat interpretovat a jevovat ke rovnosti rovnadec, stačí pouze měnoudat obidrek.

neut spidat formulace,

...jde o rovnice přímek, ne rudi' led přímice ... i' pimak



$$s_1 = \frac{-5+3}{2} \quad s_2 = \frac{6+4}{2}$$

$$s_1 = -1 \quad s_2 = 5$$

$$A_1[-1; 5]$$

Pro smyčkový vektor \vec{t}_a platí:

$$\vec{t}_a = (s_1 + 1, s_2 - 2) = (-1 + 1; 5 - 2)$$

$$\vec{t}_a = (0; 3) \dots \text{přímice } t_a:$$

$$\begin{cases} x = -1 \\ y = 2 + 3t \end{cases}$$

④

$$s_3 = \frac{-5-1}{2}, s_4 = \frac{4+2}{2}$$

$$s_3 = -3, s_4 = 3$$

$$B_1[-3; 3]$$

$$\vec{t}_b = B_1 - B = (s_3 - 3; s_4 - 6)$$

$$= (-3 - 3; 3 - 6) = (-6; -3)$$

$$\vec{t}_b = (-6; -3)$$

parametrisation:
$$\begin{cases} x = 3 - 6t \\ y = 6 - 3t \end{cases}$$

$$s_5 = \frac{3-1}{2}, s_6 = \frac{6+2}{2}$$

$$s_5 = 1, s_6 = 4$$

$$C_1[1; 4]$$

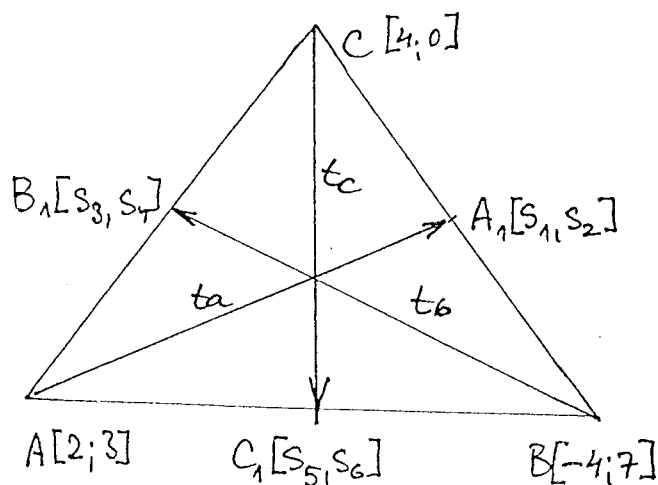
$$\vec{t}_c = C_1 - C = (s_5 + 6; s_6 - 4) = (1 + 5; 4 - 4)$$

$$= (6; 0)$$

$$\vec{t}_c = (6; 0)$$

parametrisation:
$$\begin{cases} x = -5 + 6t \\ y = 4 \end{cases}$$

b) $A[2; 3], B[-4; 7], C[4; 0]$



$$s_1 = \frac{-4+4}{2}, s_2 = \frac{7+0}{2}$$

$$s_1 = 0, s_2 = \frac{7}{2} (3,5)$$

$$A_1[0; 3,5]$$

$$s_3 = \frac{2+4}{2}, s_4 = \frac{0+3}{2}$$

$$s_3 = 3, s_4 = \frac{3}{2} (1,5)$$

$$B_1[3; 1,5]$$

$$s_5 = \frac{2-4}{2}, s_6 = \frac{7+3}{2}$$

$$s_5 = -1, s_6 = 5$$

$$C_1[-1; 5]$$

$$\vec{t}_a = (s_1 - 2; s_2 - 3) = (0 - 2; 3,5 - 3) = (-2; 0,5)$$

$$\vec{t}_a = (-2; \frac{1}{2})$$

parametrisation:
$$\begin{cases} x = 2 - 2t \\ y = 3 + \frac{1}{2}t \end{cases}$$

$$\vec{t}_b = (s_3 + 4; s_4 - 7) = (3 + 4; 1,5 - 7) = (7; -\frac{11}{2}) \dots \vec{t}_b = (7; -\frac{11}{2})$$

parametrisation:
$$\begin{cases} x = -4 + 7t \\ y = 7 - \frac{11}{2}t \end{cases}$$

$$\vec{tc} = C_1 - C = (S_5 - 4; S_6 - 0) = (-1 - 4; 5 - 0) = (-5; 5) \dots \vec{tc} = (-5; 5)$$

Průběh tc :

$$\begin{aligned} x &= 4 - 5t \\ y &= 5t \end{aligned}$$

8) Zjistěte, zda dané body leží na jedné (téže) přímce:

a) $A[2; 3], B[4; 5], C[7; -1]$

$$\vec{S}_1 = B - A = (2; 2) \quad | :2 \quad \vec{S}_2 = C - A = (5; -2)$$

$$\vec{S}_1 = (1; 1) \quad \vec{S}_1 \neq \vec{S}_2 \Rightarrow \text{body } A, B, C \text{ neloží na téže přímce.}$$

b) $A[4; 3], B[-1; -2], C[9; 8]$

$$\vec{S}_1 = B - A = (-5; -5) \quad | :(-5) \quad \vec{S}_2 = C - A = (5; 5) \quad | :5$$

$$\vec{S}_1 = (1; 1) \quad \vec{S}_2 = (1; 1)$$

$$\vec{S}_1 = \vec{S}_2 \Rightarrow \text{body } A, B, C \text{ leží na téže přímce.}$$

c) $A[1; 0], B[3; 4], C[5; 8]$

$$\vec{S}_1 = B - A = (2; 4) \quad | :2 \quad \vec{S}_2 = C - A = (4; 8) \quad | :4$$

$$\vec{S}_1 = (1; 2) \quad \vec{S}_2 = (1; 2)$$

$$\vec{S}_1 = \vec{S}_2 \Rightarrow \text{body } A, B, C \text{ leží na téže přímce.}$$

Uveďte, jakými úhly průsečík těchto dvou postupem (např. pro situaci b):

$$\vec{S}_1 = B - A \quad \vec{S}_2 = C - B$$

$$\vec{S}_1 = (-5; -5) \quad | :(-5) \quad \vec{S}_2 = (10; 10) \quad | :10$$

$$\vec{S}_1 = (1; 1) \quad \Rightarrow \quad \vec{S}_2 = (1; 1)$$

9) Zjistěte, zda přímky, které mají uvedené parametrické rovnice, jsou řídce nebo spřesněné,

je-li řídce nebo řídce rovnoběžné

je-li řídce nebo řídce rovnoběžnost (kolmost přímek)

a) $x = 3 + t$

$y = 2 - 2t$

$A[3; 2]$ $\vec{s}_1 = (t; -2t)$

$\vec{s}_1 = (1; -2) \cdot t$, kde $t \in \mathbb{R}$

a) $x = 3r \dots x = 0 + 3r$

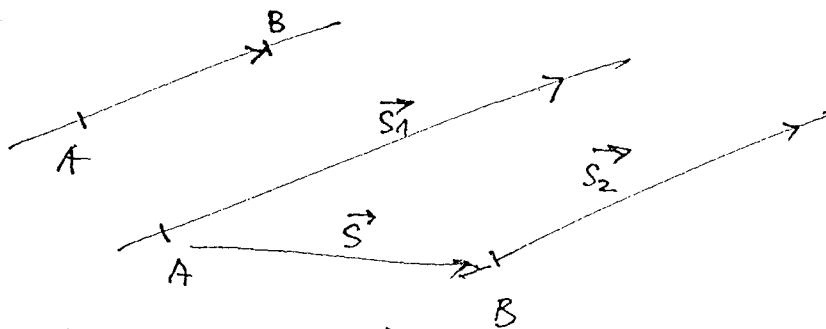
$y = 1 - 6r \dots y = 1 - 6r$

$B[0; 1]$, $\vec{s}_2 = 3r - 6r \quad | :3$

$\vec{s}_2 = (r; -2r)$

$\vec{s}_2 = (1; -2) \cdot r$, $r \in \mathbb{R}$

Směřuje vektorů obou přímek jsou si rovný $\vec{s}_1 = \vec{s}_2$. Z toho poznáme, že přímky jsou rovnoběžné. Abychom to bylo zjistit, zda jsou rovnoběžné, nebo rovnoběžné spřesněné. O tom rozhodne poměr vektorů přímek A, B .



jestliže $\vec{s} = B - A = \vec{s}_1(s_2) \Rightarrow$ přímky spřesněné

" $\vec{s} = B - A \neq \vec{s}_1(s_2) \Rightarrow$ " řídce

U nás se přímky řídce:

$\vec{s} = B - A = (0 - 3; 1 - 2) = (-3; -1) \quad | : (-1) \dots \vec{s} = (3; 1)$

$\vec{s} \neq s_1(s_2) \Rightarrow$ dvě přímky jsou rovnoběžné řídce.

b) $x = 5 + t$
 $y = -8 + 2t$

a) $x = 9 - 2r \dots x = 9 - 2r$

$y = -4r$

$y = 0 - 4r$

$$A[5; -8]$$

$$B[9; 0]$$

$$\vec{s}_1 = t + 2t$$

$$\vec{s}_2 = (-2r - 4r) \quad | :(-2)$$

$$\vec{s}_1 = (1+2) \cdot t; t \in \mathbb{R} \quad \vec{s}_2 = (1+2) \cdot r; r \in \mathbb{R}$$

$$\vec{s}_1 = \vec{s}_2 \Rightarrow \text{přímky jsou rovnoběžné}; \vec{s} = B - A = (9-5; 0+8)$$

$$\vec{s} = s_1(s_2) \Rightarrow \text{druhá přímka} \\ \text{je } \underline{\text{splynulá}}$$

$$\vec{s} = (4; 8) : 2$$

$$\vec{s} = (1; 2) \dots (1m; 2m), m \in \mathbb{R}$$

$$\vec{s} = (1; 2) \cdot m; m \in \mathbb{R}$$

Obecná rovnice přímky

Rovnice $\boxed{ax + by + c = 0}$, kde a a b je dno z čísel

se $a, b \neq 0$, se nazývá obecná rovnice přímky.

⑩ Převeďte danou přímku na obecnou formu (spíše f. milo
leží: Přímky vyjádřené parametricky (apod.) je vyjádří-
te v obecné formě)

a) $x = 2 - t$ 1.2

$$y = 3 + 2t$$

$$2x = 4 - 2t$$

$$y = 3 + 2t$$

$$2x + y = 7$$

$$\boxed{2x + y - 7 = 0}$$

b) $x = -4 + t$ 1.(-5)

$$y = 3 + 5t$$

$$-5x = 20 - 5t$$

$$y = 3 + 5t$$

$$-5x + y = 23$$

$$\boxed{5x + y + 23 = 0}$$

Ukažme si nejrychlejší postup,
který spočítá ne vyložením t.

c) $x = -1 + 4t$ 1.(-5)

$$y = 3 + 5t$$

$$-5x = 5 - 20t$$

$$4y = 12 + 20t$$

$$-5x + 4y = 17$$

$$\boxed{5x - 4y + 17 = 0}$$

d) $x = -3 + 5t$ 1.2

$$y = -2 - 2t$$

$$2x = -6 + 10t$$

$$5y = -10 - 10t$$

$$2x + 5y = -16$$

$$\boxed{2x + 5y + 16 = 0}$$

Dále postupem rovnice pro rovnici přímky
kdy jsou dány body $A[a_1; a_2], B[b_1; b_2]$

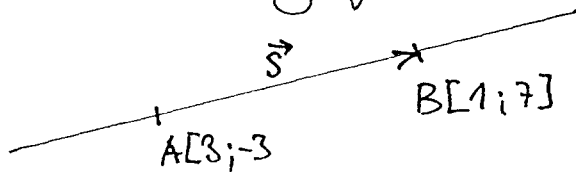
$$y = \frac{b_2 - a_2}{b_1 - a_1} (x - a_1) + a_2$$

$$A[a_1; a_2], B[b_1; b_2]$$

11) Napište obecnou rovnici přímky, která je určena dvěma body:

a) $A[3; -3], B[1; 7]$

1. (Zobouhauy) postup:



$$\vec{s} = B - A = (1 - 3; 7 + 3)$$

$$\vec{s} = (-2; 10) \quad | :2$$

$$\vec{s} = (-1; 5)$$

$$x = 3 - t \quad | \cdot 5$$

$$y = -3 + 5t$$

$$5x = 15 - 5t$$

$$y = -3 + 5t$$

$$5x + y = 12$$

$$\boxed{5x + y - 12 = 0}$$

2. postup pomocí rovnice

$$A[3; -3] \quad B[1; 7]$$

$$a_1 \quad a_2 \quad b_1 \quad b_2$$

$$y = \frac{b_2 - a_2}{b_1 - a_1} (x - a_1) + a_2$$

$$y = \frac{10}{-2} (x - 3) - 3$$

$$y = -5(x - 3) - 3$$

$$y = -5x + 15 - 3$$

$$\boxed{5x + y - 12 = 0}$$

b) $A[-2; 3], B[1; -4]$

$$y = \frac{-4 - 3}{1 + 2} (x + 2) + 3$$

$$y = -\frac{7}{3} (x + 2) + 3$$

$$3y = -7(x + 2) + 9$$

$$3y = -7x - 14 + 9$$

$$3y = -7x - 5$$

$$\boxed{7x + 3y + 5 = 0}$$

c) $A[5; 0], B[-1; 6]$

$$y = \frac{6 - 0}{-1 - 5} (x - 5) + 0$$

$$y = -1(x - 5)$$

$$y = -x + 5$$

$$\boxed{x + y - 5 = 0}$$

d) $A[2; -1], B[3; -2]$

$$y = \frac{-2 + 1}{3 - 2} (x - 2) - 1$$

$$y = \frac{-1}{1} (x - 2) - 1$$

$$y = -x + 2 - 1$$

$$\rightarrow \boxed{x + y - 1 = 0}$$

12) Napište obecnou rovnici strany a střednice trojúhelníku $\triangle ABC$ s vrcholy:

$A[2; -5], B[0; 3], C[-4; 1]$. **Poznámka:** Je třeba upřesnit text, nejedná se o rovnice strany a střednice, ale o rovnice přímek, které obsahují \odot strany a střednice, či ne.

kteřou a její strany a tečnice... pro tuto jistě dost, že rovnice přímek existují v parametrickém tvaru, například pro přímku CD ... $C[3; -1], D[-1; -3]$ platí tento tvar.

$$\text{přímka: } x = 3 - 4t$$

$$y = -1 - 2t, \quad t \in \langle 0; 1 \rangle \quad \left. \begin{array}{l} \text{je rovnice přímky} \\ \text{→ tento dodatek zaručuje přímku} \end{array} \right\}$$

Tímto způsobem postupně jen postupně obdržíme $\triangle ABC$ (musíme postupně používat). Musíme však maximálně řešit tu situaci, která nám umožní určitě určit konkrétní výsledky.

$$s_1 = \frac{0-4}{2} \quad s_2 = \frac{3+1}{2}$$

$$s_1 = -2 \quad s_2 = 2$$

$$A_1[-2; 2]$$

$$s_3 = \frac{2-4}{2} \quad s_4 = \frac{-5+1}{2}$$

$$s_3 = -1 \quad s_4 = -2$$

$$B_1[-1; -2]$$

$$s_5 = \frac{2+0}{2} \quad s_6 = \frac{-5+3}{2}$$

$$s_5 = 1 \quad s_6 = -1$$

$$C_1[1; -1]$$

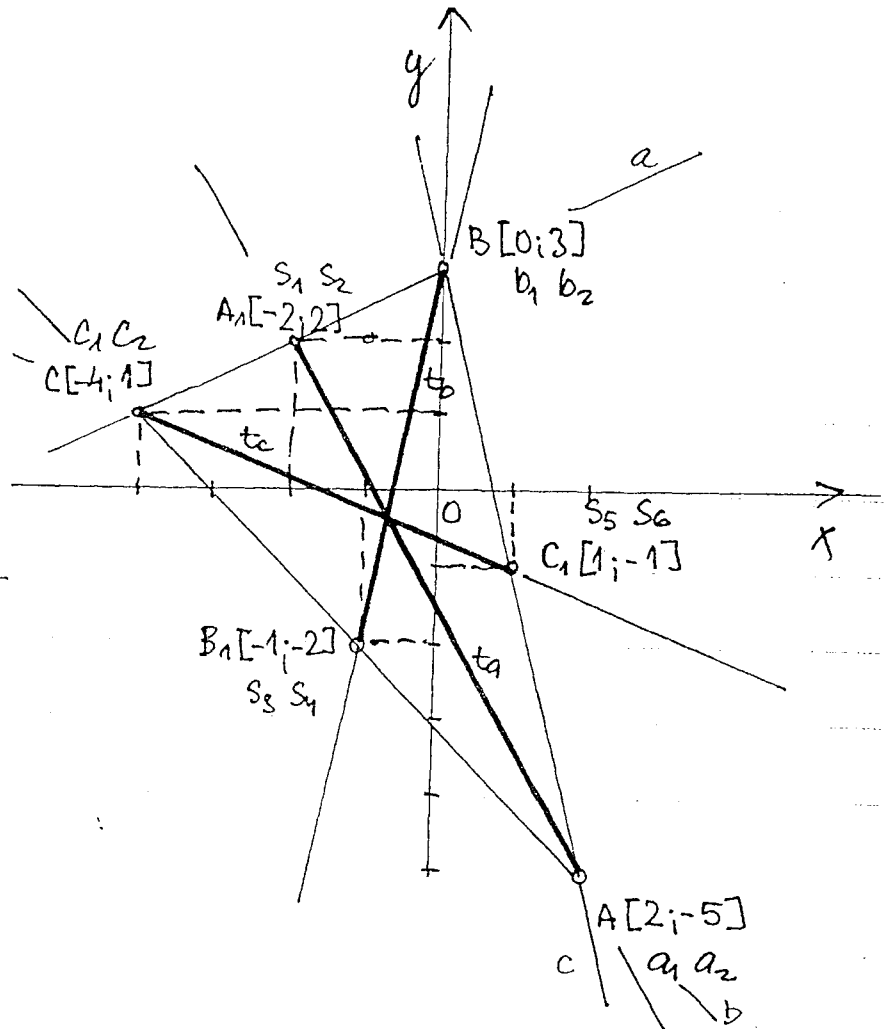
Přímka $a = \overrightarrow{BC}$ (nebo $\rightarrow BC$)

$$y = \frac{c_2 - b_2}{c_1 - a_1} (x - b_1) + b_2$$

$$y = \frac{1-3}{-4-0} (x-0) + 3$$

$$y = \frac{-2}{-4} (x-0) + 3$$

$$y = \frac{1}{2} (x-0) + 3 \quad | \cdot 2$$



$$2y = x + 6$$

$$\boxed{x - 2y + 6 = 0}$$

je rovnice přímky \underline{a}

Přímka $b = \vec{AC}$

$$y = \frac{c_2 - a_2}{c_1 - a_1} (x - a_1) + a_2$$

$$y = \frac{1+5}{-4-2} (x-2) - 5$$

$$y = -1(x-2) - 5$$

$$y = -x + 2 - 5$$

$$y = -x - 3$$

$x + y + 3 = 0$ je rovnice přímky b .

Přímka $c = \vec{AB}$

$$y = \frac{b_2 - a_2}{b_1 - a_1} (x - a_1) + a_2$$

$$y = \frac{3+5}{0-2} (x-2) - 5$$

$$y = -4(x-2) - 5$$

$$y = -4x + 8 - 5$$

$$y = -4x + 3$$

$4x + y - 3 = 0$ je rovnice přímky c

Přímka $a = \vec{AA_1}$

$$y = \frac{s_2 - a_2}{s_1 - a_1} (x - a_1) + a_2$$

$$y = \frac{2+5}{-2-2} (x-2) - 5$$

$$y = -\frac{7}{4} (x-2) - 5 \quad | \cdot 4$$

$$4y = -7(x-2) - 20$$

$$4y = -7x + 14 - 20$$

$$4y = -7x - 6$$

$7x + 4y + 6 = 0$ je rovnice přímky a

Přímka $b_p = \vec{BB_1}$

$$y = \frac{s_1 - b_2}{s_3 - b_1} (x - b_1) + b_2$$

$$y = \frac{-2-3}{-1-0} (x-0) + 3$$

$$y = 5(x-0) + 3$$

$$y = 5x + 3$$

$5x - y + 3 = 0$ je rovnice přímky b_p .

Přímka $t_c = \vec{CG}$

$$y = \frac{s_6 - c_2}{s_5 - c_1} (x - c_1) + c_2$$

$$y = \frac{-1-1}{1+4} (x+4) + 1$$

$$y = -\frac{2}{5} (x+4) + 1 \quad | \cdot 5$$

$$5y = -2(x+4) + 5$$

$$5y = -2x - 8 + 5$$

$$5y = -2x - 3$$

$2x + 5y + 3 = 0$ je rovnice přímky t_c .

13) Zjistěte, zda na přímce $2x - 3y + 6 = 0$ leží body:

a) $A[3;2]$, b) $B[0;2]$, c) $C[3;0]$, d) $D[3;4]$

Řešení a) $L = 2 \cdot 3 - 3 \cdot 2 + 6 = 6 - 6 + 6 = 6$

$P = 0$, $L \neq P \Rightarrow$ Bod A neleží na přímce dané rovnici $2x - 3y + 6 = 0$.

b) $L = 2 \cdot 0 - 3 \cdot 2 + 6 = 0$, $P = 0 \Rightarrow$ Bod B leží na přímce.

c) $L = 2 \cdot 3 - 3 \cdot 0 + 6 = 6 + 6 = 12$, $P = 0$, $L \neq P$, C neexistuje!

d) $L = 2 \cdot 3 - 3 \cdot 4 + 6 = 6 - 12 + 6 = 0$, $P = L$, D leží

14) Zjistěte, zda dané body leží na jedné přímce:

$A[5; -1]$, $B[3; 4]$, $C[5; -1]$ Řešit stejným postupem, jaký byl uplatněn v příkladu 8) tohoto svazku. Autor zřejmě přehledně, než mi příklad uvedou do typu sázek. Příklad podle měření.

15) Zsuzromete následující přímky:

a) $x - 2y + 3 = 0$, b) $2x - y + 3 = 0$, c) $2x + 5y - 10 = 0$, d) $5x + 2y + 10 = 0$

Ke zsuzromění přímky použijeme dvě souřadnice dvou jejích různých bodů. K tomu účelu je nejlépe vybrat souřadnice dvou bodů přímky (což bylo učivo 25).

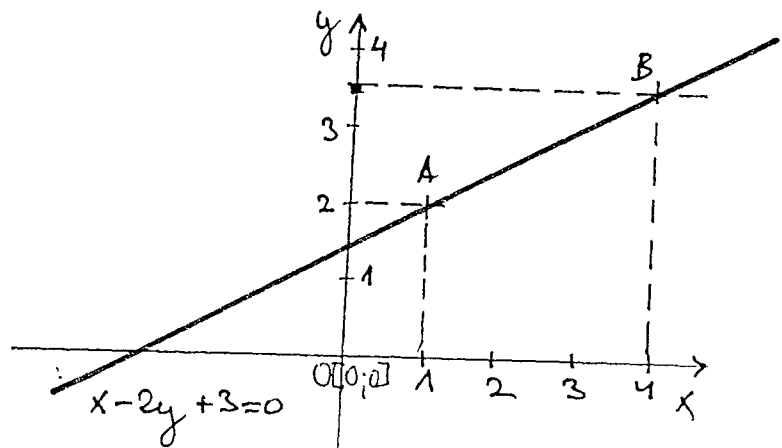
a) $x - 2y + 3 = 0$

$$2y = x + 3 \quad | :2$$

$$y = \frac{1}{2}x + \frac{3}{2}$$

x	1	4
y	2	3,5

A B



b) $2x - y + 3 = 0$

$$y = 2x + 3$$

x	0	-1
y	3	1

grafy na sh. 13

c) $2x + 5y - 10 = 0$

$$5y = -2x + 10 \quad | :5$$

$$y = -\frac{2}{5}x + 2$$

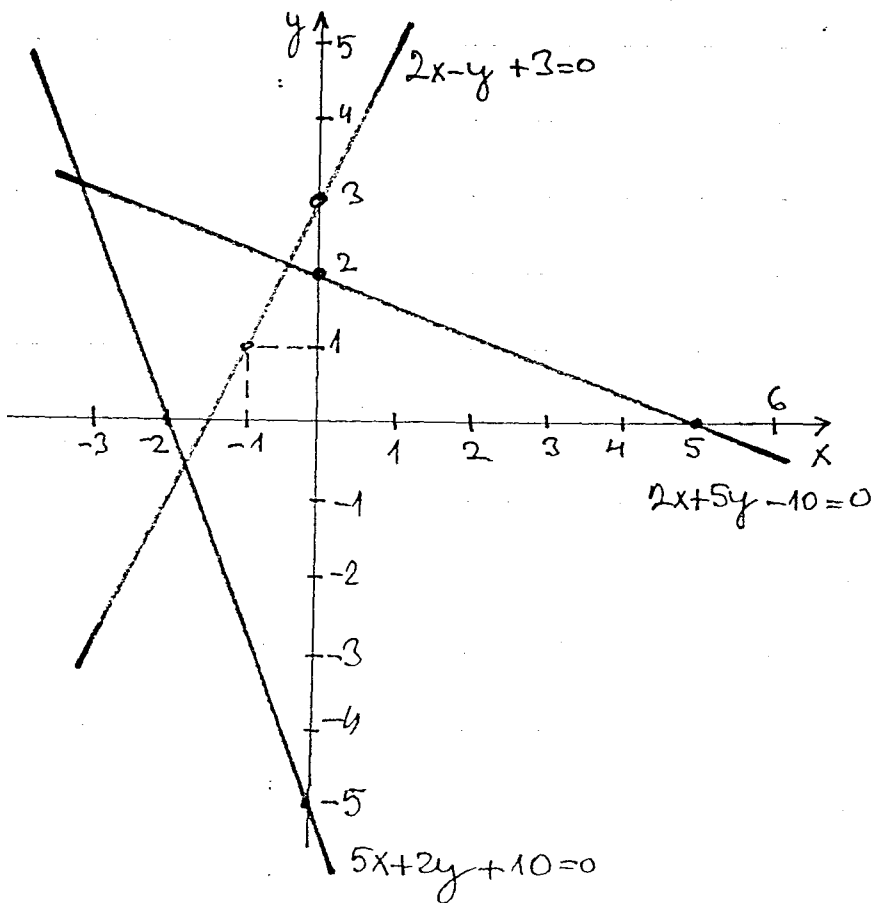
x	0	5
y	2	0

d) $5x + 2y + 10 = 0$

$$2y = -5x - 10 \quad | :2$$

$$y = -\frac{5}{2}x - 5$$

x	0	-2
y	-5	0



16) určete obecnou rovnici přímky, které je určeno bodem $A[3; -5]$ a směrovým vektorem $\vec{s} = (3; 4)$.

Postup: Uváíme parametrické rovnice přímky a eliminovat je obecnou rovnici přímky (viz str. 2).

$$A[3; -5], \vec{s} = (3; 4)$$

$$\begin{array}{l} x = a_1 + ts_1 \\ y = a_2 + ts_2 \end{array} \quad \begin{array}{l} | \\ \rightarrow \end{array} \begin{array}{l} y = 3 + 3t \\ y = -5 + 4t \end{array} \quad \begin{array}{l} | \\ \rightarrow \end{array} \begin{array}{l} 1 \cdot (-4) \\ 1 \cdot 3 \end{array} \quad \begin{array}{l} | \\ \rightarrow \end{array} \begin{array}{l} -4x = -12 - 12t \\ 3y = -15 + 12t \end{array}$$

$$\begin{array}{l} -4x + 3y = -27 \\ \boxed{4x - 3y - 27 = 0} \end{array}$$

17) určete obecnou rovnici přímky, které je určeno bodem $A[5; 7]$, je-li vektor její normály $\vec{n} = (3; -5)$.

Řešení: normálový vektor

Uspořádáme rovnice postupně:

1. postup: Normálový vektor je kolmý ke směrovému vektoru. Norm. vektor je určen bodem a, b . By dosadíme do obecné rovnice přímky $ax + by + c = 0$.

$$\vec{n} = (3; -5)$$

$$\begin{array}{c} \downarrow \downarrow \\ a \quad b \end{array}$$

$$ax + by + c = 0$$

$$3x - 5y + c = 0 \quad \otimes$$

Podstata je určena A a \vec{n}

je považována počátečního

bodů $A[5;7]$ dosadíme do rovnice $\textcircled{3}$.

$$3 \cdot 5 - 5 \cdot 7 + c = 0$$

$$15 - 35 + c = 0$$

$c = 20 \dots$ tuto hodnotu dosadíme do rovnice $\textcircled{3}$

$$\boxed{3x - 5y + 20 = 0}$$

2. postup: Normálový vektor převedeme na smířnový vektor. Tak, ve obě jeho souřadnice zaměníme a u první souřadnice změníme znaménko na opačné.

$\vec{s} = (5;3)$ a dále už to bylo vyřešeno.

$$A[5;7], \vec{s} = (5;3) \quad \begin{array}{l|l} x = 5 + 5t & 1 \cdot (-3) \\ y = 7 + 3t & 1 \cdot 5 \end{array} \quad \begin{array}{l} -3x = -15 - 15t \\ 5y = 35 + 15t \end{array}$$

18) Který bod na přímce $5x - 2y + 7 = 0$ má stejné velkou souřadnice?

$$3x + 5y = 20$$

$$\boxed{3x - 5y + 20 = 0}$$

musíme se vypočítat, pro které číslo platí $x = y$.

$$5x - 2y + 7 = 0$$

$$2y = 5x + 7$$

$$\frac{2}{5}y - \frac{7}{5} = \frac{5}{2}x + \frac{7}{2} \quad | \cdot 10$$

$$5x = 2y - 7$$

$$\boxed{y = \frac{5}{2}x + \frac{7}{2}}$$

$$4y - 14 = 25x + 35$$

$$\textcircled{3} \quad \boxed{x = \frac{2}{5}y - \frac{7}{5}}$$



$$25x - 4y = -49$$

$\leftarrow 25x - 4y + 49 = 0$, dosadíme $\textcircled{3}$

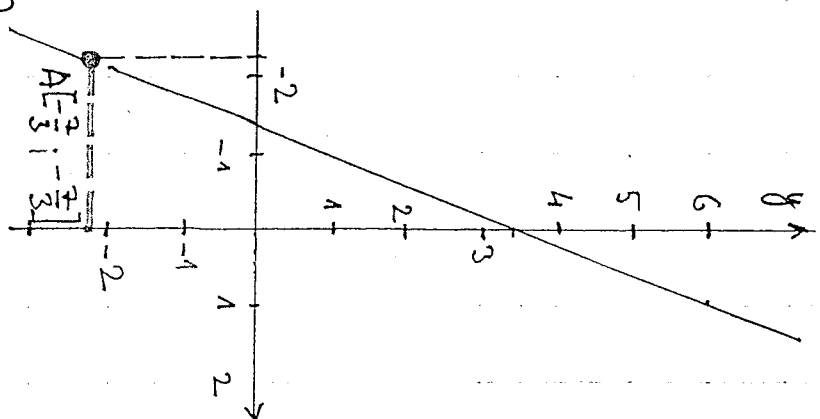
$$25 \left(\frac{2}{5}y - \frac{7}{5} \right) - 4y + 49 = 0$$

$$10y - 35 - 4y + 49 = 0$$

$$6y = -14$$

$$y = -\frac{7}{3} \Rightarrow x = -\frac{7}{3}$$

$$A \left[-\frac{7}{3}; -\frac{7}{3} \right]$$



19) Určete číslo c , aby přímka $3x - 2y + c = 0$ procházela a) bodem $A[2; 5]$, b) $B[0; 3]$, c) $C[-4; 0]$, d) prostředkem soustavy souřadnic.

Postup podle 1. postupu mastr. (13) - možnost řešení

$$3x - 2y + c = 0 \quad \vec{n} = (3; -2) \quad A[2; 5]$$

$$\begin{array}{ccc|cc} a & b & c & a & b & \dots & \text{ještě informace} \\ \hline & & & & & & \end{array}$$

a) $3 \cdot 2 - 2 \cdot 5 + c = 0$
 $6 - 10 + c = 0$

$$\boxed{c = -16}$$

b) $3 \cdot 0 - 2 \cdot 3 + c = 0$
 $0 - 6 + c = 0$

$$\boxed{c = 6}$$

c) $3 \cdot (-4) - 2 \cdot 0 + c = 0$
 $-12 + c = 0$

$$\boxed{c = 12}$$

d) $O[0; 0] \quad 3 \cdot 0 - 2 \cdot 0 + c = 0 \Rightarrow \boxed{c = 0}$

20) Určete směrový a normálový vektor přímky $4x - 5y + 9 = 0$.
 $\vec{n} = (4; -5) \dots \vec{n} = (4t; -5t), \vec{s} = (5t; 4t), t \in \mathbb{R}$

Směrnice rovnice přímky

$$y = kx + q, \text{ kde } k = \frac{b_2 - a_2}{b_1 - a_1}, \text{ jestliže } A[a_1, a_2], B[b_1, b_2]$$

↓
 rovnice body

Je směrnice přímky, $k = \tan \varphi$, kde φ je odchylka přímky od kladné polosu x , další údaje uvedeme
 ↓
 = úhel

21) Přímku $2x - 4y + 6 = 0$ převeďte na směrovou formu.
 $4y = 2x + 6 \quad | :4$

$$\boxed{y = \frac{1}{2}x + \frac{3}{2}}$$

22) Napište rovnici přímky, pokud-li:

a) $\varphi = 45^\circ, q = -2$

$k = \tan \varphi = \tan 45^\circ = 1 \dots y = 1x - 2 \dots \boxed{y = x - 2}$

b) $k=-3$, $q=5$, kde q je směrový úhel, k je směrnice a q úhel
me ose Oy

madlyšecne' údaje

$$y = -3x + 5$$

23) Určete směrnici, směrový a normálový vektor příčky:

a) $3x + 2y - 4 = 0$

$a=3, b=2, c=-4$

$\downarrow \quad \downarrow \quad \downarrow$
 $a \quad b \quad c$

$$k = -\frac{a}{b}$$

$$q = -\frac{c}{b}$$

směrnice

\downarrow úhel me ose Oy

$$k = -\frac{3}{2}$$

$$\vec{n} = (a; b) \dots \vec{n} = (3; 2) \dots \vec{n} = (3t; 2t), t \in \mathbb{R} \wedge t \neq 0$$

$$\vec{s} = (2; -3) \dots \vec{s} = (2t; -3t), t \in \mathbb{R} \wedge t \neq 0$$

b) $x + 3y = 0$

$$k = -\frac{a}{b} = -\frac{1}{3}$$

$$\vec{n} = (a; b)$$

$1x + 3y + 0 = 0$
 $\downarrow \quad \downarrow \quad \downarrow$
 $a \quad b \quad c$

$$k = -\frac{1}{3}$$

$$\vec{n} = (1; 3) \dots \vec{n} = (t; 3t), t \neq 0$$

$$\vec{s} = (-3t; t), t \neq 0 \quad \otimes$$

* Poznámka: Když vybereme ze směrového vektoru normálový vektor, tak rovněmú gúlu považujeme a u prvního obrátíme znaménko...

$$\vec{s} = (-3t; t) \rightarrow \vec{n} = (-t; -3t) \quad | \cdot (-1)$$

$$\vec{n} = (t; 3t)$$

c) $5x - y + 7 = 0$

$$k = -\frac{5}{-1}$$

$$\vec{n} = (5; -1) \dots \vec{n} = (5t; -t), t \neq 0$$

$5x - 1y + 7 = 0$
 $\downarrow \quad \downarrow \quad \downarrow$
 $a \quad b \quad c$

$$k = 5$$

$$\vec{s} = (t; 5t), t \neq 0$$

24) Určete směrnici a směrový úhel příčky:

a) $4x + 3y - 4 = 0$

b) $x - 2y + 5 = 0$

a) $k = -\frac{4}{3}$ směr $y(-\frac{4}{3}) \Leftrightarrow -53^\circ 8'$... $\varphi = -53^\circ 8'$

nebo $\varphi = 360^\circ - 53^\circ 8' = 306^\circ 52'$

b) $1x - 2y + 5 = 0$
 $\begin{matrix} \downarrow & \downarrow & \downarrow \\ a & b & c \end{matrix}$ $k = -\frac{1}{-2}$

$k = \frac{1}{2}$ $\text{tg } \varphi = \frac{1}{2} \Rightarrow \varphi = 26^\circ 34'$

25) Najděte směrovou tvar rovnice přímky procházející bodem $A[3; -1]$, když $k = -\frac{3}{4}$.

Rovnice hledané přímky je $y = -\frac{3}{4}x + q$. Číslo q máme dosadit souřadnic bodu A do rovnice přímky.

$$y = -\frac{3}{4}x + q$$

$$-1 = -\frac{3}{4} \cdot 3 + q \quad | \cdot (-4)$$

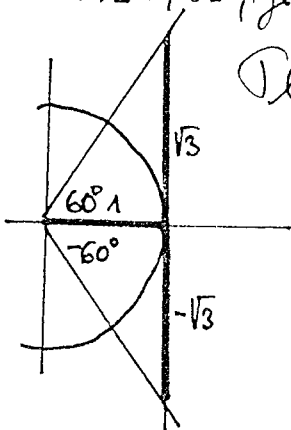
$$4 = 9 - 4q$$

$$4q = 5$$

$$q = \frac{5}{4}$$

$y = -\frac{3}{4}x + \frac{5}{4}$

26) Najděte směrovou tvar rovnice přímky procházející bodem $A[-5; 3]$, je-li její směrový úhel $\varphi = -60^\circ$.



Dle: $\text{tg}(-x) = -\text{tg } x$

$\text{tg}(-60^\circ) = -\text{tg } 60^\circ = -\sqrt{3}$

$k = -\sqrt{3}$

$y = kx + q$

$y = -\sqrt{3}x + q$... dosadíme souřadnice bodu A

$3 = -\sqrt{3} \cdot (-5) + q$

$3 = 5\sqrt{3} + q \rightarrow q = (3 - 5\sqrt{3})$

$y = -\sqrt{3}x + (3 - 5\sqrt{3})$

27) Najděte směrovou tvar rovnice přímky procházející bodem $A[-1; 5]$, je-li a) $\vec{s} = (3; 5)$, b) $\vec{n} = (-1; 4)$

Řešení a): $x = -1 + 3t \quad | \cdot (-5) \rightarrow -5x = 5 - 15t$
 $y = 5 + 5t \quad | \cdot 3 \rightarrow 3y = 15 + 15t$
 $-5x + 3y = 20$
 $3y = 5x + 20 \quad | : 3$
 $y = \frac{5}{3}x + \frac{20}{3}$

$$b) \vec{n} = (-1; 4) \quad \left| \begin{array}{l} x = -1 + 4t \\ \vec{s} = (4; 1) \quad y = 5 + t \cdot (-4) \end{array} \right. \rightarrow \begin{array}{l} x - 4y = -21 \\ 4y = x + 21 \quad | :4 \\ \boxed{y = \frac{1}{4}x + \frac{21}{4}} \end{array}$$

28) Najviše americký tax police příkazy produkováni' ludy

a) $A[-3; 7], B[2; 5]$
 $a_1, a_2 \quad b_1, b_2$

1. možnost: rovnice přímky: $y = \frac{b_2 - a_2}{b_1 - a_1} (x - a_1) + a_2$

$$y = \frac{5-7}{2+3} (x+3) + 7 \quad \left| \begin{array}{l} y = -\frac{2}{5}(x+3) + 7 \\ y = -\frac{2}{5}x - \frac{6}{5} + 7 \end{array} \right. \quad \boxed{y = -\frac{2}{5}x + \frac{29}{5}}$$

2. možnost: $\vec{s} = B - A = (2+3; 5-7) = (5; -2) \dots \vec{s} = (5; -2)$ ∇ Rovnice: 3. možnosti podle μ c).

$$\begin{array}{l} x = -3 + 5t \quad | :2 \quad 2x = -6 + 10t \\ y = 7 - 2t \quad | :5 \quad 5y = 35 - 10t \end{array} \quad \left| \begin{array}{l} 2x + 5y = 29 \\ 5y = -2x + 29 \quad | :5 \end{array} \right. \quad \boxed{y = -\frac{2}{5}x + \frac{29}{5}}$$

b) rovnice = 1. možnost: $C[-4; -1], D[2; -4]$

$$y = \frac{d_2 - c_2}{d_1 - c_1} (x - c_1) + c_2 \quad \rightarrow \begin{array}{l} y = -\frac{1}{2}(x+4) - 1 \\ y = -\frac{1}{2}x - 2 - 1 \\ \boxed{y = -\frac{1}{2}x - 3} \end{array}$$

2. možnost rovnice směrového vektoru

$$\begin{array}{l} \vec{s} = D - C \\ \vec{s} = (2+4; -4+1) \\ \vec{s} = (6; -3) \end{array} \quad \left| \begin{array}{l} x = -4 + 6t \\ y = -1 - 3t \quad | :2 \\ x = -4 + 6t \\ 2y = -2 - 6t \end{array} \right. \quad \rightarrow \begin{array}{l} x + 2y = -6 \\ 2y = -x - 6 \quad | :2 \\ \boxed{y = -\frac{1}{2}x - 3} \end{array}$$

c) $E[-4; 7], F[3; 5]$

$$\begin{array}{l} y = kx + q \quad y = kx + q \\ 7 = -4k + q \quad 5 = 3k + q \end{array}$$

$$\boxed{4k - q = -7} \quad \boxed{3k + q = 5}$$

$$\begin{array}{l} 4k - q = -7 \\ 3k + q = 5 \\ 7k = -2 \end{array} \quad \begin{array}{l} 3 \cdot (-\frac{2}{7}) + q = 5 \\ -\frac{6}{7} + q = 5 \end{array}$$

$$\boxed{k = -\frac{2}{7}}$$

$$\boxed{q = \frac{41}{7}}$$

$$\boxed{y = -\frac{2}{7}x + \frac{41}{7}}$$

29) Urcete rovnici přímky, která prochází bodem $A[-4; 5]$ a má směrnici buď větší než 1 nebo rovnic $4x - 6y + 1 = 0$.

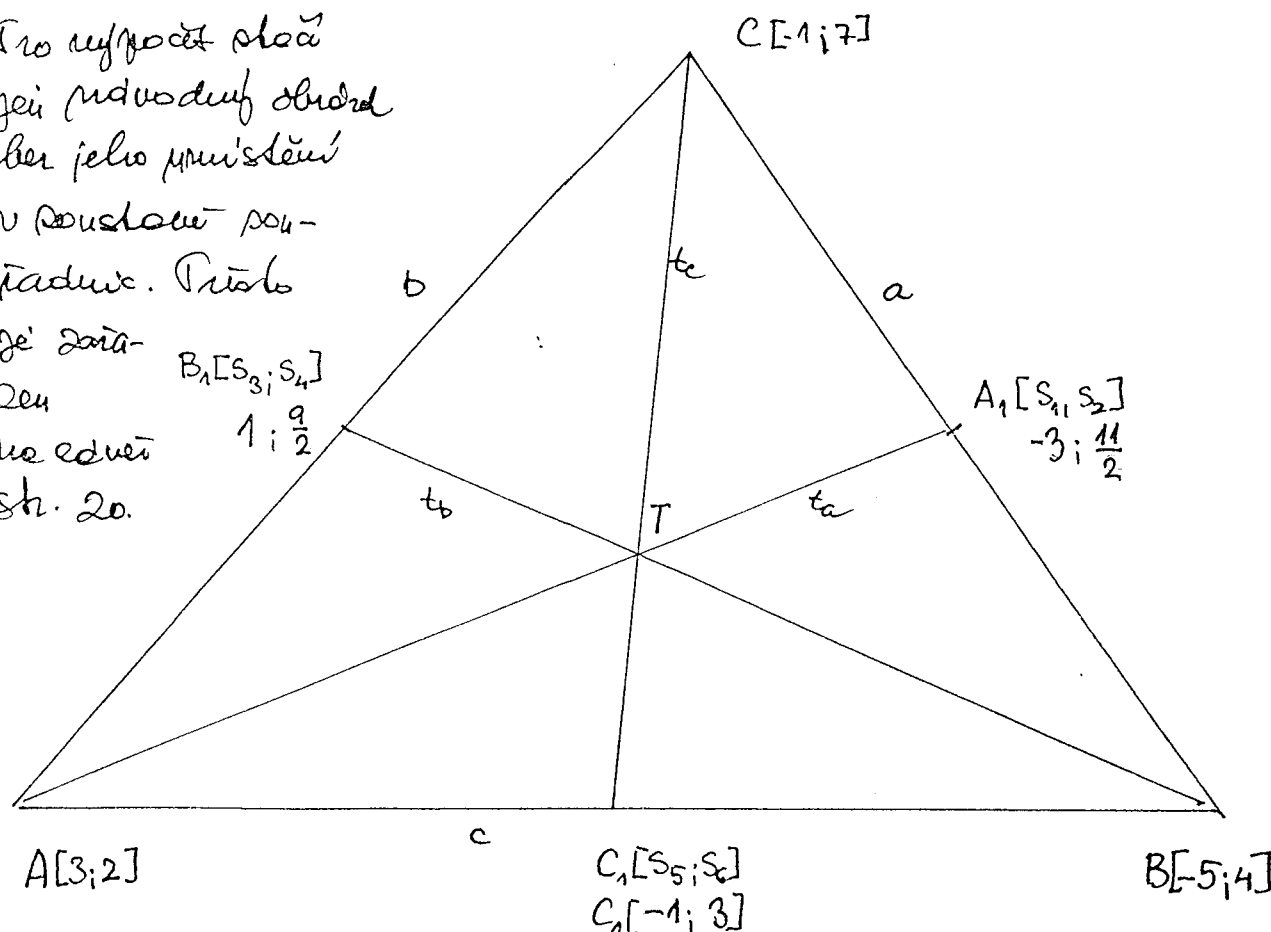
$$4x - 6y + 1 = 0 \quad \left\{ \begin{array}{l} k = \frac{2}{3} \\ k' = 3k = 3 \cdot \frac{2}{3} \\ k' = 2 \end{array} \right. \quad \left\{ \begin{array}{l} y = b'x + q \\ y = 2x + q, \text{ dosadit "A"} \\ 5 = 2(-4) + q \\ 5 = -8 + q \\ q = 13 \end{array} \right.$$

$y = 2x + 13$

30) Je dán $\triangle ABC$ s vrcholy $A[3; 2]$, $B[-5; 4]$, $C[-1; 7]$

- Určete: a) parametrické rovnice strany a ,
 b) dekadon rovnice strany b ,
 c) směrnici rovnice strany c ,
 d) parametrické rovnice těžnice t_a ,
 e) dekadon rovnice těžnice t_b ,
 f) směrnici rovnice těžnice t_c .
- } pro zde hrubé údaje v poznámce, ut jsem se o nich zmínil.

Pro výpočet stačí
 její rovnicový obvod
 bez jeho průměrní
 v rovnosti sou-
 řadnic. Průběh
 je zřejmý
 Ode
 ne odví
 str. 20.



$$S_1 = \frac{-1-5}{2} \quad S_2 = \frac{7+4}{2} \quad S_3 = \frac{-1+8}{2} \quad S_4 = \frac{2+7}{2} \quad S_5 = \frac{3-5}{2} \quad S_6 = \frac{4+2}{2}$$

$$S_1 = -3 \quad S_2 = \frac{11}{2} \quad S_3 = 1 \quad S_4 = \frac{9}{2} \quad S_5 = -1 \quad S_6 = 3$$

a) $\vec{S} = C - B = (-1+5; 7-4) = (4; 3)$

$x = -5 + 4t$
 $y = 4 + 3t$

b) $\vec{S} = C - A = (-1-3; 7-2) = (-4; 5)$

$$x = 3 - 4t \quad | \cdot 5$$

$$y = 2 + 5t \quad | \cdot 4$$

$$5x = 15 - 20t$$

$$4y = 8 + 20t$$

$5x + 4y - 23 = 0$

c) $y = \frac{b_2 - a_2}{b_1 - a_1} (x - a_1) + a_2$

$$y = -\frac{1}{4} (x - 3) + 2$$

$$y = \frac{4-2}{-5-3} (x-3) + 2$$

$y = -\frac{1}{4}x + \frac{11}{4}$

d) $t_a \dots \vec{S} = A_1 - A$

$$\vec{S} = (3-3; \frac{11}{2}-2) = (0; \frac{7}{2})$$

$x = 3 - 6t$
 $y = 2 + \frac{7}{2}t$

Doviedenie vektoru
mimo dĺžky odvesen Δ ,
 $\vec{S}(0; \frac{7}{2})$ novú pruhu smer.
vektor.

e) $t_b \dots \vec{S} = B_1 - B$

$$\vec{S} = (1+5; \frac{9}{2}-4) = (6; \frac{1}{2})$$

$$\vec{S} = (6; \frac{1}{2})$$

$$x = -5 + 6t$$

$$y = 4 + \frac{1}{2}t \quad | \cdot (-12)$$

$$x - 12y = -53$$

$x - 12y + 53 = 0$

$$-12y = -48 - 6t$$

f) $t_c \dots \vec{S} = C_1 - C$ VPRAVO

$$\vec{S} = (-1+1; 8-7) = (0; -4)$$

$$x = -1 + 0t$$

$$y = 7 - 4t \quad | \cdot 0$$

$$\Rightarrow x = -1$$

Príkucke prenos smeru
je rovnakožne s osou
Oy ... KONEC
ČLANKU 4.3.

