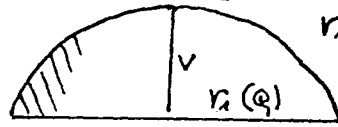
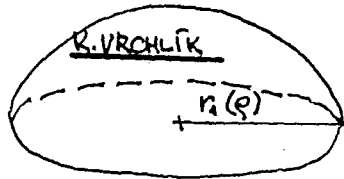


16b) POVRCH A OBJEM KOULE A JEJICH ČÁSTÍ

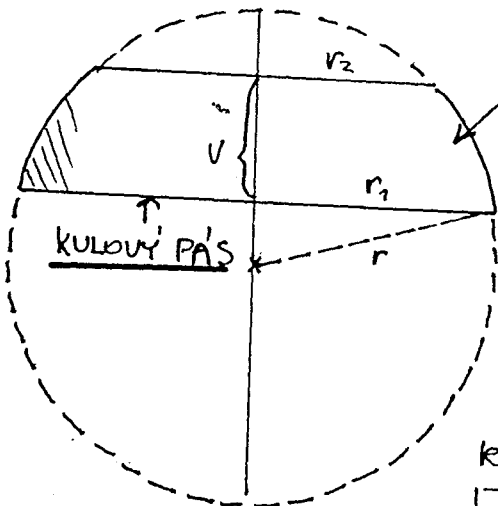
KOULE $V = \frac{4}{3} \pi r^3$ $S = 4\pi r^2$

KULOVÁ ŮSEC : $V = \frac{\pi v}{6} (3r_1^2 + v^2)$

v je výška úseče
 r_1 je poloměr podstavy úseče



r (poloměr koule)



KULOVA VRSTVA

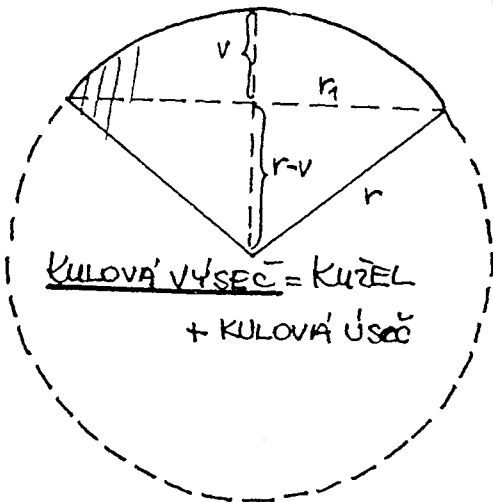
$V = \frac{\pi v}{6} (3r_1^2 + 3r_2^2 + v^2)$, kde r_1, r_2 jsou

poloměry podstavy a v je výška vrstvy

Obsah kulového vrcholku (nebo

kulového úseče):

$S = 2\pi r v$, kde r je poloměr kulové plochy (koule)



KULOVA VÝSEC = KUZEL
 + KULOVA ŮSEC

Objem kulové výseče:

$V = \frac{2}{3} \pi r^2 v$ $S = \pi r (2v + r_1)$

Objem duté koule s poloměry r_1, r_2 :

$V = \frac{4}{3} \pi (r_1^3 - r_2^3)$

Příklad 1: Vypočítejte objem v dm^3 , pokud $v \text{ dm}^2$ a hustota v kg shodně s modelem duté koule s průměrem $d = 12 \text{ cm}$ a hustotou povrchového dubu $\rho = 900 \text{ kg} \cdot \text{m}^{-3}$.

Rěšení: $V = \frac{4}{3} \pi r^3$

$$S = 4 \pi r^2$$

$$m = V \cdot \rho$$

$$V = \frac{4}{3} \pi \cdot 0,6^3$$

$$S = 4 \cdot \pi \cdot 0,6^2$$

$$m = \frac{4}{3} \pi \cdot r^3 \cdot \rho$$

$$V = 0,9 \text{ (dm}^3\text{)}$$

$$S = 4,5 \text{ (dm}^2\text{)}$$

$$m = \frac{4}{3} \pi \cdot 0,6^3 \cdot 0,9$$

$$m = 0,8 \text{ (kg)}$$

Přiklad 2: Koule určité k váhu přičtených se -
modech má hmotnost 7250 g. Vypočítejte
její průměr, když je vyrobena z oceli s husto-
tou $\rho = 7800 \text{ kg} \cdot \text{m}^{-3}$.

Rěšení: $m = V \cdot \rho$

$$m = \frac{4}{3} \pi r^3 \rho$$

$$r = \sqrt[3]{m : \frac{4}{3} \pi \rho}$$

$$d = 2 \cdot \sqrt[3]{m : \frac{4}{3} \pi \rho}$$

$$d = 2 \cdot \sqrt[3]{7,25 : \frac{4}{3} \pi \cdot 7800}$$

$$d = 0,121 \text{ (m)} = \boxed{12,1 \text{ (cm)}}$$

Přiklad 3: Kolikrát se zvětší a) povrch koule, b) objem koule,
jestliže se její poloměr zvětší x -krát?

Rěšení a): Průvodní koule má poloměr r , zvětšená koule má
poloměr x -krát větší, t.j. rx .

$$S_1 = 4 \pi r^2, \quad S_2 = 4 \pi (rx)^2 = 4 \pi r^2 x^2 \dots \text{ S se zvětší } x^2\text{-krát}$$

$$\text{b) } V_1 = \frac{4}{3} \pi r^3, \quad V_2 = \frac{4}{3} \pi (rx)^3 = \frac{4}{3} \pi r^3 x^3 \dots \text{ V se zvětší } x^3\text{-krát}$$

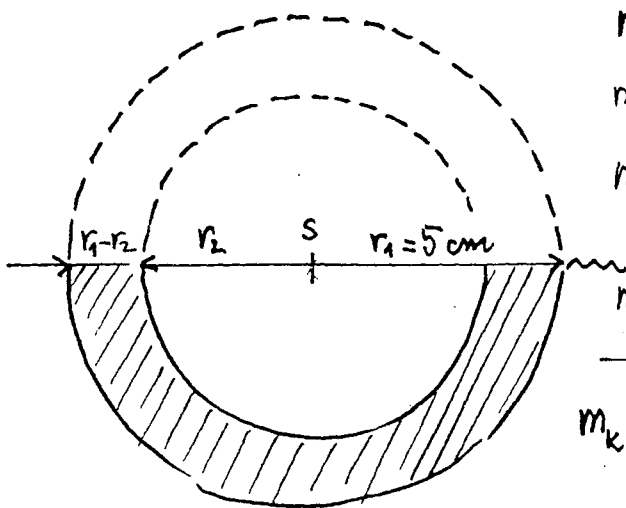
Přiklad 4: Pomocí měřicího dubu ocelovou kouli do vody,
pomocí se svou poloměrou. Vypočítejte tloušťku
její stěny, jestliže měřicí průměr koule je
1 dm a hustota oceli $7800 \text{ kg} \cdot \text{cm}^{-3}$.

Rěšení: Hmotnost celé duté koule se rovná
hmotnosti vody vyplněné dutou kouli.

Označme: hmotnost vyplněné vody m_v .

tloušťka duté koule ... m_k .

(2)



$$m_V = V \cdot \rho$$

$$m_V = \frac{1}{2} \cdot \frac{4}{3} \pi r_1^3 \cdot \rho$$

$$m_V = \frac{2}{3} \pi \cdot 5^3 \cdot \rho$$

$$m_V = \frac{250}{3} \pi$$

$$m_K = \left(\frac{4}{3} \pi r_1^3 - \frac{4}{3} \pi r_2^3 \right) \cdot \rho$$

$$m_K = \frac{4}{3} \pi \rho (r_1^3 - r_2^3)$$

$$r_1 - r_2 = 5 - 3,9685$$

$$r_1 - r_2 = 1,03 \text{ (cm)}$$

Dloužka stěny
duté koule je
asi 1 cm.

$$m_K = m_V$$

$$\frac{4}{3} \pi \rho (r_1^3 - r_2^3) = \frac{250}{3} \pi \quad | \cdot \frac{3}{\pi}$$

$$4 \cdot 1 \cdot (5^3 - r_2^3) = 250$$

$$500 - 4r_2^3 = 250$$

$$r_2 = 3,9685$$

Příklad 5: Průměr průměru duté koule je 20 cm. Určete tloušťku její stěny, má-li tato koule objem 5 litrů?

Řešení: $5 \text{ l} = 5000 \text{ cm}^3$

$$r_1 - r_2 = 10 - 9,585$$

$$V = \frac{4}{3} \pi (r_1^3 - r_2^3)$$

$$r_1 - r_2 = 0,4 \text{ (cm)}$$

$$5000 = \frac{4}{3} \pi (10^3 - r_2^3)$$

$$r_2 = 9,585 \text{ (cm)}$$

Dloužka stěny duté
koule je asi 0,4 cm.

Příklad 6: Vypočítejte povrch polokoule s průměrem $d = 2,5 \text{ dm}$.

Řešení: Povrch polokoule je tvořen kruhem a polovinou povrchem koule s poloměrem $r = 1,3 \text{ dm}$.

$$S_p = \pi r^2 + \frac{1}{2} \cdot 4\pi r^2$$

$$S_p = 3\pi \cdot 1,3$$

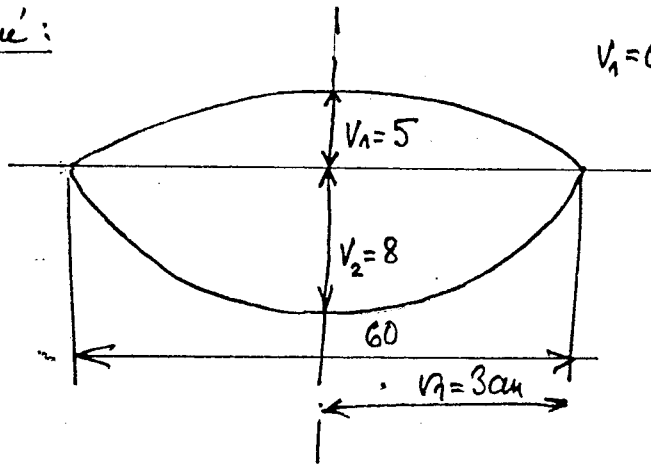
$$S_p = 3\pi r^2$$

$$S_p = 12,25 \text{ (dm}^2\text{)}$$

(3)

Příklad 7: Komplexní čočka je tvořena dvěma kulovými výsečemi (viz obr.). Rozměry jsou uvedeny v mm. Vypočítejte její hmotnost, je-li hustota jejího skla $\rho = 2,5 \text{ g.cm}^{-3}$.

Rěšení:



$$v_1 = 0,5 \text{ cm}, v_2 = 0,8 \text{ cm}, r_1 = 3$$

$$V = V_1 + V_2$$

$$V = \frac{\pi v_1}{6} (3r_1^2 + v_1^2) + \frac{\pi v_2}{6} (3r_1^2 + v_2^2)$$

$$V = \frac{\pi}{6} [v_1 \cdot (3r_1^2 + v_1^2) + v_2 (3r_1^2 + v_2^2)]$$

$$V = \frac{\pi}{6} [0,5 \cdot (3 \cdot 3^2 + 0,5^2) + 0,8 (3 \cdot 3^2 + 0,8^2)]$$

$$V = \frac{\pi}{6} (0,5 \cdot 27,25 + 0,8 \cdot 27,64)$$

$$V = 18,712 \text{ (cm}^3\text{)}$$

$$m = V \cdot \rho$$

$$m = 18,712 \cdot 2,5$$

$$m = 46,78 \text{ (g)}$$

Příklad 8: Určete V a S kulové výseče, jestliže kulová výseč (její výška) má poloměru $r_1 = 6 \text{ cm}$ a výšku $v = 2 \text{ cm}$.

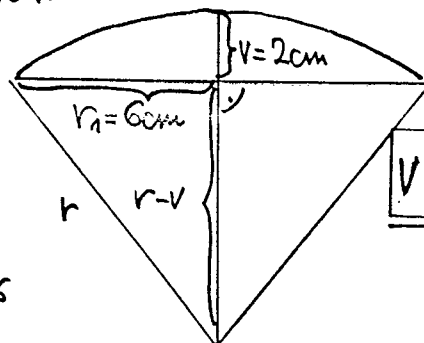
Rěšení:

$$r^2 = (r-v)^2 + r_1^2$$

$$r^2 = (r-2)^2 + 6^2$$

$$r^2 = r^2 - 4r + 4 + 36$$

$$r = 10 \text{ (cm)}$$



$$V = \frac{2}{3} \pi r^2 v$$

$$V = \frac{2}{3} \pi \cdot 10^2 \cdot 2$$

$$V = 419 \text{ (cm}^3\text{)}$$

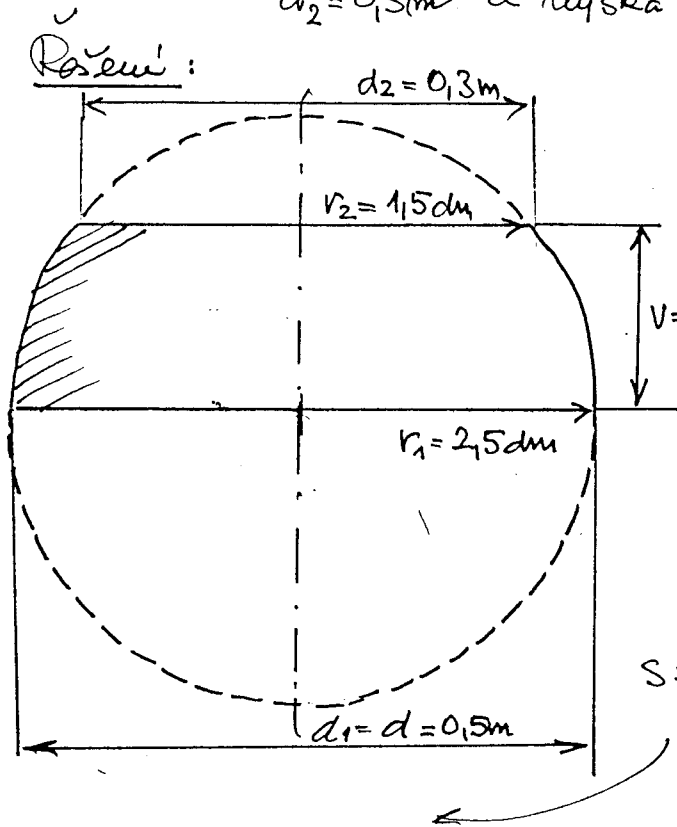
$$S = \pi r (2v + r_1)$$

$$S = \pi \cdot 10 \cdot (4 + 6)$$

$$S = 100\pi$$

$$S = 314,16 \text{ (cm}^2\text{)}$$

Příklad 9: Vypočítejte povrch v dm^2 a objem v dm^3 kulové vrstvy, jejíž větší poloměr je r_1 , rovná poloměru koule $d = 0,5\text{m}$, menší poloměr $r_2 = 0,3\text{m}$ a výška vrstvy $v = 200\text{mm}$.



$$V = \frac{\pi v}{6} (3r_1^2 + 3r_2^2 + v^2)$$

$$V = \frac{\pi \cdot 2}{6} (3 \cdot 2,5^2 + 3 \cdot 1,5^2 + 2^2)$$

$$V = 30,89 \text{ (dm}^3\text{)}$$

$S_{\text{vrstvy}} = S_{\text{malší podstavy}} + S_{\text{velké}} + S_{\text{kulového pásu}}$

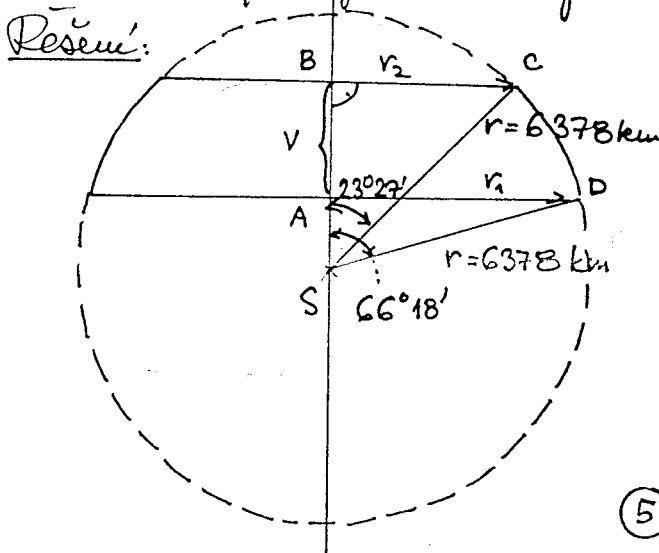
$$S = \pi r_1^2 + \pi r_2^2 + 2\pi r_1 v$$

↓
r koule je stejná jako r_1

$$S = \pi (r_1^2 + r_2^2 + 2r_1 v)$$

$$S = \pi (2,5^2 + 1,5^2 + 2 \cdot 2,5 \cdot 2) \rightarrow S = 58,12 \text{ (dm}^2\text{)}$$

Příklad 10: Kolik km^2 měří pútrné pásma na Zemí, které se rozprostírá mezi $23^\circ 27'$ a $66^\circ 18'$ severní zeměpisné šířky?



$$\text{v } \triangle DAS: \sin 66^\circ 18' = \frac{r_1}{6378}$$

$$r_1 = 5840 \text{ (km)}$$

$$\text{v } \triangle SCB: \cos 23^\circ 27' = \frac{|SB|}{6378}$$

$$\frac{|SB| = 5851,22 \dots}{\sin 23^\circ 27' = \frac{r_2}{6378}}$$

$$r_2 = 2538,1 \text{ (km)}$$

(5)

VRÁŠAD:

$$V = |SBI - |SAI$$

$$|SAI| = \sqrt{r^2 - r_1^2}$$

$$V = 5851,22... - 2563,8...$$

$$|SAI| = \sqrt{6378^2 - 5840^2}$$

$$V \approx 3287,2 \text{ (km)}$$

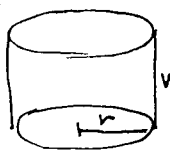
$$|SAI| \approx 2563,8 \text{ (km)}$$

$$S_{\text{pásu}} = 2\pi r v = 2\pi \cdot 6378 \cdot 3287,2 = 131\,731\,765 \approx 132\,000\,000 =$$

$$\approx 132 \cdot 10^6 \text{ (km}^2\text{)} \text{ je rozloha mírného pásu.}$$

Příklad 11: Určete poměr objemů rotačního válce, polokoule a rotační kužele se stejnými poloměry podstavu a stejnými výškami.

Rěšení:



místo měno



$$V_1 : V_2 : V_3 = \pi r^2 v : \frac{2}{3} \pi r^3 : \frac{1}{3} \pi r^2 v \quad | \cdot 3$$

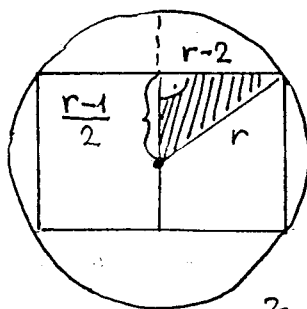
$$= 3\pi r^2 v : 2\pi r^3 : \pi r^2 v \quad | \cdot \frac{1}{\pi}$$

$$3rv : 2r^2 : rv \quad \dots \text{ pro } r = v \text{ platí:}$$

$$3r^2 : 2r^2 : r^2 \quad | : r^2$$

$$V_1 : V_2 : V_3 = 3 : 2 : 1$$

Příklad 12: Do kulové plochy je vepsán rotační válec tak, že kulová plocha prochází podstavou "hřmenou" válce. Poloměr podstavu válce je 2 cm a výška 0,1 cm menší než poloměr koule. Určete poloměr koule.



$$\text{Rěšení: } (r-2)^2 + \left(\frac{r-1}{2}\right)^2 = r^2$$

$$r^2 - 4r + 4 + \frac{r^2 - 2r + 1}{4} = r^2 \quad | \cdot 4$$

$$-16r + 16 + r^2 - 2r + 1 = 0$$

$$r^2 - 18r + 17 = 0 \quad \dots r_{1/2} = \frac{18 \pm \sqrt{256}}{2} = \frac{18 \pm 16}{2} =$$

$$r_1 = 17 \text{ (cm)}$$

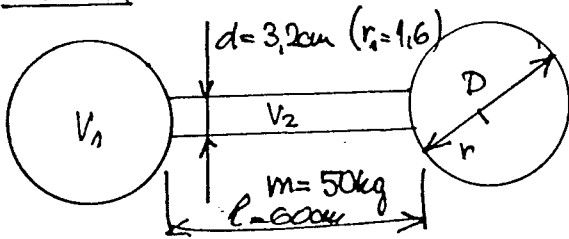
r_2 není korekční

Koule má poloměr 17 cm.

(6)

13 Činka na obvodu má nepravděpodobně hmotnost 50 kg. Jaký je průměr D koule, je-li délka spojovací tyče hmotnosti $l = 60 \text{ cm}$ a její průměr $d = 32 \text{ mm}$. Hustota materiálu je $\rho = 7,8 \text{ g} \cdot \text{cm}^{-3}$.

Řešení:



m_t ... hmotnost tyče
 m_k ... " " koule

$$m_t = V_2 \cdot \rho$$

$$m_t = \pi r_1^2 \cdot l \cdot \rho$$

$$m_t = \pi \cdot 1,6^2 \cdot 60 \cdot 7,8$$

$$\underline{m_t = 3763,879 \text{ (g)} = 3,763879 \text{ (kg)}}$$

$$m_k = (50 \text{ kg} - 3,763879 \text{ kg}) : 2$$

$$\underline{m_k = 23,118 \text{ (kg)} = 23118 \text{ (g)}}$$

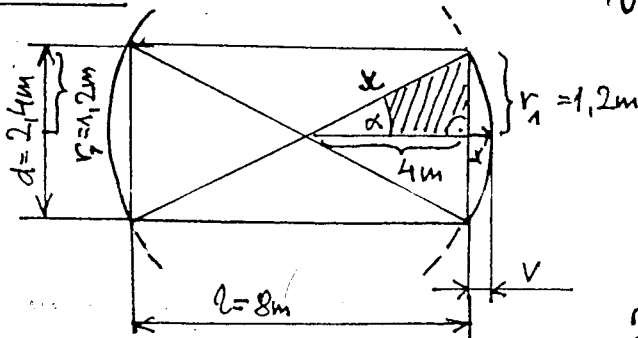
$$m_k = V \cdot \rho$$

$$23118 = \frac{4}{3} \pi r^3 \cdot 7,8$$

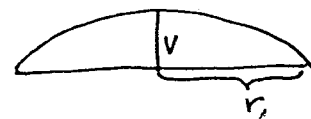
$$r = 8,91 \rightarrow \boxed{D = 17,8 \text{ cm}} \text{ je průměr koule.}$$

Příklad 14: Vagonovou cisternu tvoří váleček délky $l = 8 \text{ m}$ s minimálním průměrem $d = 2,4 \text{ m}$ a s čely tvaru kulových vlniček. Ty jsou částí kulové plochy, jejíž střed je v přední části cisterny. Vypočítejte
 a) objem prostoru cisterny ($= V$),
 b) jehnan cisterny (hloušťku materiálu neberte v úvahu).

Řešení:



Vlnička je část povrchu kulové hlavy.



$$V_0 = \frac{\pi V}{6} (3r_1^2 + x^2)$$

$$2V_0 = \frac{\pi V}{6} (3r_1^2 + x^2) \cdot 2 = \frac{\pi V}{3} (3r_1^2 + x^2)$$

Objem cisterny V je objem válece V_r + objem dvou míseč $2V_0$.

$$x = \sqrt{4^2 + 1,2^2}$$

$$V = x - 4$$

$$2V_U = \frac{\pi \cdot 0,176}{3} \cdot (3 \cdot 1,2^2 + 0,176^2)$$

$$x = 4,176 \text{ (m)}$$

$$V = 4,176 - 4$$

$$2V_U = 0,8019 \text{ (m}^3\text{)}$$

$$V = 0,176 \text{ (m)}$$

$$V_{\text{válece}} = V_V = \pi r_1^2 \cdot l$$

$$V_V = \pi \cdot 1,2^2 \cdot 8 = 36,19 \text{ (m}^3\text{)} \quad V = V_V + 2V_U = 37 \text{ (m}^3\text{)}$$

Cisterna má objem 37 m³.

Plocha cisterny = obsah plošty válece + 2. obsah vrcholu

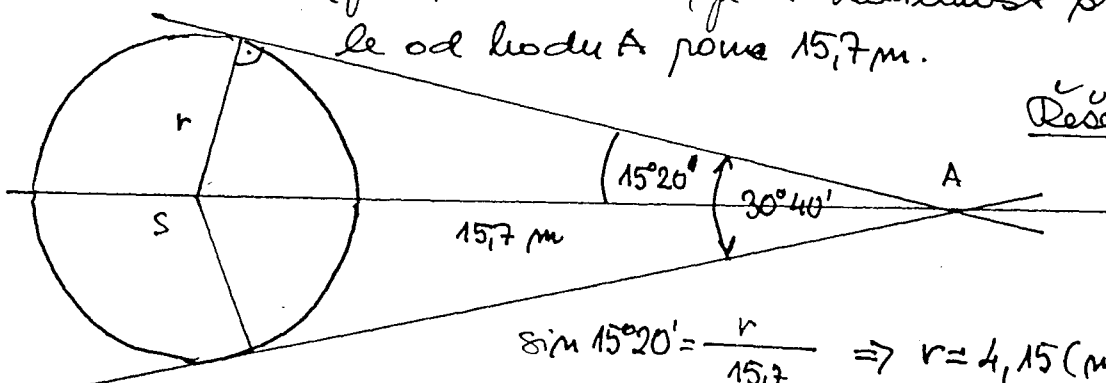
$$S = S_{\text{pl}} + 2 \cdot S_V$$

$$S = 2\pi r_1 \cdot l + 2 \cdot 2\pi r_1^2$$

$$S = 2\pi \cdot 1,2 \cdot 8 + 4\pi \cdot 1,2^2 = 63 \text{ (m}^2\text{)}$$

Plocha cisterny je 63 m².

Příklad 15: Vypočítejte objem koule, kterou vidíme z bodu A pod úhlem 30°40', je-li vzdálenost středu S koule od bodu A pouze 15,7 m.

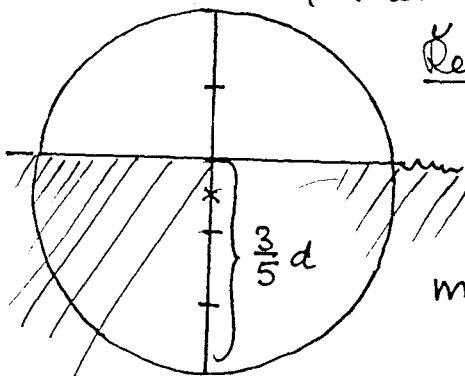


Řešení:

$$\sin 15^\circ 20' = \frac{r}{15,7} \Rightarrow r = 4,15 \text{ (m)}$$

$$V = \frac{4}{3} \pi r^3 = \frac{4}{3} \cdot \pi \cdot 4,15^3 = 299,39 \text{ (m}^3\text{)}$$

Příklad 16: Určete hmotnost dřevěné koule, která plave na vodě ponořená do $\frac{3}{5}$ svého průměru.



Řešení: $\underbrace{\text{Hmotnost vytažené vody}}_{m_V} = \underbrace{\text{hmotnost koule ze dřeva}}_{m_K}$

$$\rho_{\text{vody}} = 1 \text{ g} \cdot \text{cm}^{-3}$$

m vody v celé kouli je $m_V = V \cdot \rho$

$$m_V = \frac{4}{3} \pi r^3 \cdot 1 = \frac{4}{3} \pi r^3$$

(8)

Platň Aedý, rē $m_v = \frac{4}{3} \pi r^3$

$$\frac{3}{5} m_v = \frac{3}{5} \cdot \frac{4}{3} \pi r^3 = \frac{4}{5} \pi r^3$$

$m_k = V \cdot \rho$ (kde ρ je luskobka dēv))

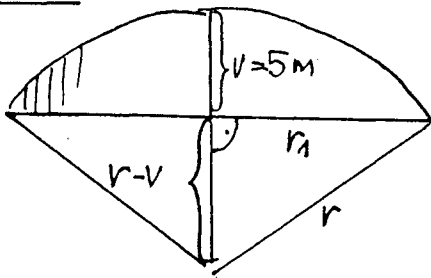
$m_k = \frac{4}{3} \pi r^3 \cdot \rho$ a platň rovnat $\frac{4}{5} \pi r^3 = \frac{4}{3} \pi r^3 \cdot \rho \quad | \cdot \frac{1}{4\pi r^3}$

$$\frac{1}{5} = \rho$$

$$\rho = \frac{3}{5} \rightarrow \rho = 0,6 \text{ g} \cdot \text{cm}^{-3}$$

Přiklad 17: Kuloná míč s výškou $v = 5 \text{ m}$ má objem $V = 850 \text{ m}^3$.
 "Určete poloměr koule, jejíž je část".

Řešení:



$$r_1^2 = r^2 - (r-v)^2$$

$$r_1^2 = r^2 - (r-5)^2$$

$$r_1^2 = r^2 - (r^2 - 10r + 25)$$

$$r_1^2 = 10r - 25 \quad \text{neodmocňuj}$$

$$V = \frac{\pi v}{6} (3r_1^2 + v^2)$$

$$850 = \frac{\pi \cdot 5}{6} [3 \cdot (10r - 25) + 25] \quad | \cdot 6$$

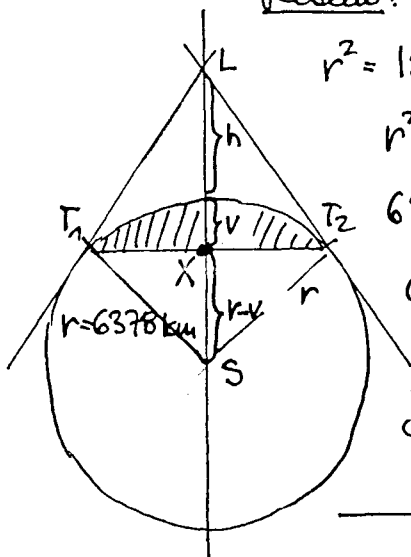
$$5100 = 5\pi (30r - 50) \quad | :5$$

$$30r - 50 = \frac{1020}{\pi}$$

$$r = 12,48 \text{ (m)}$$

Přiklad 18: Jak vysoko musí létat letec, nad-li vidět 0,001 zem. povrchu?

Řešení: Podle Eukleidovy věty o odvěsné pletě:



$$r^2 = |SL| \cdot |XS|$$

$$r^2 = (r+h) \cdot (r-v)$$

$$6378^2 = (6378+h) \cdot (6378-12,756)$$

$$6378^2 = (6378+h) \cdot 6365,244$$

$$h = 12,78 \text{ (km)}$$

Letec musí létat ve výšce 12,78 km.

$$S_{\text{vrchliku}} = 2\pi r v$$

$$2\pi r v = 0,001 \cdot 4\pi r^2 \quad | :2\pi r$$

$$v = 0,001 \cdot 2r$$

$$v = 0,001 \cdot 2 \cdot 6378$$

$$v = 12,756 \text{ (km)}$$